

Corrigé

I) 1) $z^4 + (2i - 5)z^2 + 50i = 0$ (*)

En posant $t = z^2$ l'équation devient $t^2 + (2i - 5)t + 50i = 0$:

$$\Delta = (2i - 5)^2 - 200i = 21 - 220i, \quad |\Delta| = \sqrt{21^2 - 220^2} = 221 \text{ et une r.c.c. est}$$

$$\text{donnée par } \delta = \sqrt{\frac{221+21}{2}} - i\sqrt{\frac{221-21}{2}} = 11 - 10i \text{ et par conséquent :}$$

$$t' = \frac{-2i + 5 + 11 - 10i}{2} = 8 - 6i \text{ et } t'' = \frac{-2i + 5 - 11 + 10i}{2} = -3 + 4i$$

D'où (*) $\Leftrightarrow z^2 = t'$ ou $z^2 = t''$,

et comme $|t'| = \sqrt{8^2 + (-6)^2} = 10$ et $|t''| = \sqrt{(-3)^2 + 4^2} = 5$ il vient :

$$(*) \Leftrightarrow z = \sqrt{\frac{10+8}{2}} - i\sqrt{\frac{10-8}{2}} = 3 - i \text{ ou } z = -3 + i \text{ ou } z = \sqrt{\frac{5-3}{2}} + i\sqrt{\frac{5+3}{2}} = 1 + 2i \text{ ou } z = -1 - 2i$$

$$S = \{3 - i; -3 + i; 1 + 2i; -1 - 2i\}$$

2) a) $A = B \Leftrightarrow z + i + 1 = 3z + 1 \Leftrightarrow z = \frac{i}{2}$

$$A = C \Leftrightarrow z + i + 1 = 2z + i \Leftrightarrow z = 1$$

$$B = C \Leftrightarrow 3z + 1 = 2z + i \Leftrightarrow z = i - 1$$

$$\text{Donc } \mathbb{E} = \mathbb{C} \setminus \left\{ \frac{i}{2}; 1; i - 1 \right\}$$

b) $\frac{z_B - z_A}{z_C - z_A} = \frac{3z + 1 - z - i - 1}{2z + i - z - i - 1} = \frac{2z - i}{z - 1}$, et en posant $z = x + yi$ avec $x, y \in \mathbb{R}$:

$$\begin{aligned} \frac{z_B - z_A}{z_C - z_A} &= \frac{2x + 2yi - i}{x + yi - 1} = \frac{(2x + 2yi - i)(x - 1 - yi)}{(x - 1 + yi)(x - 1 - yi)} \\ &= \frac{2x^2 - 2x - 2xyi + 2xyi - 2yi + 2y^2 - xi + i - y}{(x - 1)^2 + y^2} \\ &= \frac{2x^2 - 2x + 2y^2 - y}{(x - 1)^2 + y^2} + \frac{-2y - x + 1}{(x - 1)^2 + y^2} i \end{aligned}$$

$$\text{donc } \frac{z_B - z_A}{z_C - z_A} \in i\mathbb{R} \Leftrightarrow 2x^2 - 2x + 2y^2 - y = 0 \Leftrightarrow x^2 - x + y^2 - \frac{1}{2}y = 0$$

$$\Leftrightarrow x^2 - 2x \frac{1}{2} + \frac{1}{4} + y^2 - 2y \frac{1}{4} + \frac{1}{16} = \frac{1}{4} + \frac{1}{16}$$

$$\Leftrightarrow \left(x - \frac{1}{2}\right)^2 + \left(y - \frac{1}{4}\right)^2 = \frac{5}{16} \quad (*)$$

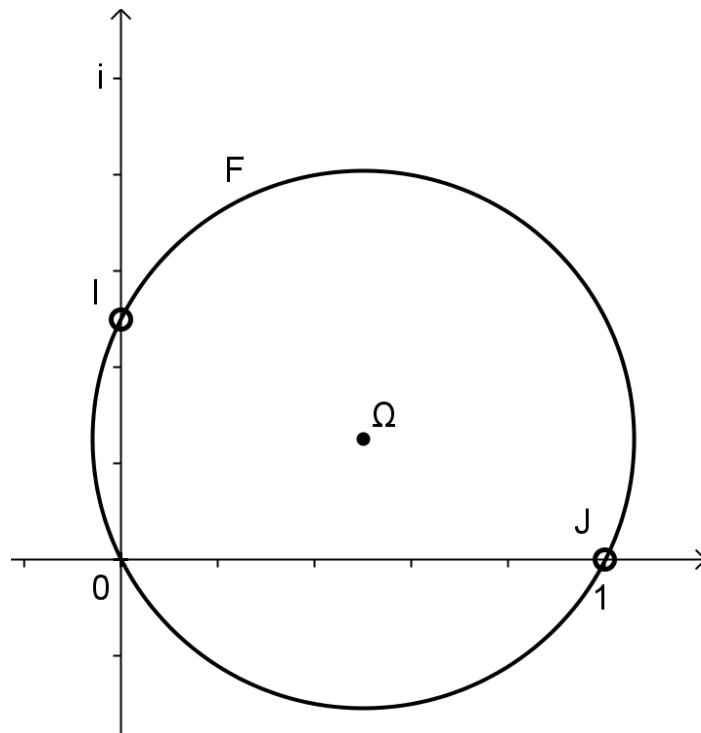
(*) est une équation du cercle \mathcal{C} de centre $\Omega\left(\frac{1}{2}; \frac{1}{4}\right)$ et de rayon $\frac{\sqrt{5}}{4}$

$$z = \frac{i}{2} \Leftrightarrow x = 0 \text{ et } y = \frac{1}{2} \text{ et comme } \left(0 - \frac{1}{2}\right)^2 + \left(\frac{1}{2} - \frac{1}{4}\right)^2 = \frac{1}{4} + \frac{1}{16} = \frac{5}{16}, I\left(\frac{i}{2}\right) \in \mathcal{C}$$

$$z = 1 \Leftrightarrow x = 1 \text{ et } y = 0 \text{ et comme } \left(1 - \frac{1}{2}\right)^2 + \left(0 - \frac{1}{4}\right)^2 = \frac{1}{4} + \frac{1}{16} = \frac{5}{16}, J(1) \in \mathcal{C}$$

$$z = i-1 \Leftrightarrow x = -1 \text{ et } y = 1 \text{ et comme } \left(-1 - \frac{1}{2}\right)^2 + \left(1 - \frac{1}{4}\right)^2 \neq \frac{5}{16}, K(i-1) \notin \mathcal{C}$$

Par conséquent $\mathbb{F} = \mathcal{C} \setminus \{I, J\}$



c) Si $P(z) \in \mathbb{F}$ alors les trois points A, B et C sont deux à deux différents (car $z \in \mathbb{E}$),

$$\text{et } \frac{z_B - z_A}{z_C - z_A} \in i\mathbb{R} \Leftrightarrow \arg\left(\frac{z_B - z_A}{z_C - z_A}\right) = \frac{\pi}{2}[\pi] \Leftrightarrow \Delta(ABC) \text{ est rectangle en A}$$

$$\begin{aligned} \text{II) 1) } \left(2x - \frac{3}{4x^2}\right)^{21} &= \sum_{i=0}^{21} C_{21}^i (2x)^{21-i} \left(-\frac{3}{4x^2}\right)^i = \sum_{i=0}^{21} C_{21}^i 2^{21-i} \left(-\frac{3}{2^2}\right)^i x^{21-i-2i} \\ &= \sum_{i=0}^{21} C_{21}^i 2^{21-3i} (-3)^i x^{21-3i} \end{aligned}$$

or $21-3i=0 \Leftrightarrow i=7$ donc le terme constant vaut : $C_{21}^7 2^0 (-3)^7 = -254304360$

- 2) Calculons d'abord la probabilité p d'obtenir deux boules de même couleur en réalisant cette expérience une fois : il y a $C_{16}^2 = 120$ tirages sans ordre et sans répétition de 2 boules parmi 16 et $C_3^2 + C_5^2 + C_8^2 = 41$ tirages de 2 boules de même couleur, donc $p = \frac{41}{120}$.

Considérons maintenant cette expérience comme une épreuve de Bernoulli avec :
Succès : « on obtient deux boules de même couleur », $p(S) = p = \frac{41}{120}$ et **Echec** :

« on obtient deux boules de couleurs différentes », $p(E) = q = \frac{79}{120}$. En répétant cette expérience 10 fois et en notant X le nombre de « succès » obtenus, on a

d'après la loi binomiale : $p(X = i) = C_{10}^i \left(\frac{41}{120}\right)^i \left(\frac{79}{120}\right)^{10-i}$ pour $i = 0, 1, \dots, 10$.

$$p(X \leq 8) = 1 - p(X > 8) = 1 - p(X = 9) - p(X = 10) = 1 - 10 \left(\frac{41}{120}\right)^9 \left(\frac{79}{120}\right)^1 - \left(\frac{41}{120}\right)^{10} \approx 0,9996$$

- 3) $\Omega = \{\text{mains à 4 cartes}\}$, $\#\Omega = C_{32}^4 = 35960$

Soit $X : \Omega \rightarrow \mathbb{R}$ la v.a. définie pour tout $\omega \in \Omega$ par :

$$X(\omega) = \begin{cases} 8 & \text{si } \omega \text{ contient 4 as} \\ 4 & \text{si } \omega \text{ contient 3 as} \\ 2 & \text{si } \omega \text{ contient 2 as} \\ 1 & \text{si } \omega \text{ contient 1 as} \\ 0 & \text{si } \omega \text{ ne contient aucun as mais la dame de coeur} \\ -1 & \text{si } \omega \text{ ne contient ni as ni la dame de coeur} \end{cases}$$

Pour $X(\omega) \geq 1$ on distingue les 4 as et les 28 autres, alors que pour $X(\omega) \leq 0$ il faut distinguer les 4 as, la dame de cœur et les 27 autres :

$$p(X = 8) = \frac{C_4^4}{35960} = \frac{1}{35960} \qquad p(X = 4) = \frac{C_4^3 \cdot C_{28}^1}{35960} = \frac{112}{35960}$$

$$p(X = 2) = \frac{C_4^2 \cdot C_{28}^2}{35960} = \frac{2268}{35960} \qquad p(X = 1) = \frac{C_4^1 \cdot C_{28}^3}{35960} = \frac{13104}{35960}$$

$$p(X = 0) = \frac{C_4^1 \cdot C_{27}^3}{35960} = \frac{2925}{35960} \qquad p(X = -1) = \frac{C_{27}^4}{35960} = \frac{17550}{35960}$$

$$\text{D'où : } E(X) = \frac{8 \cdot 1}{35960} + \frac{4 \cdot 112}{35960} + \frac{2 \cdot 2268}{35960} + \frac{1 \cdot 13104}{35960} + \frac{0 \cdot 2925}{35960} + \frac{-1 \cdot 17550}{35960} \approx 0,02$$

Comme $E(X) > 0$ le jeu est favorable au joueur qui peut espérer gagner à peu près 2 centimes par partie.

III) 1) $\Gamma_1 \equiv 3x + 4\sqrt{y^2 + 4y + 13} = 15 \Leftrightarrow 4\sqrt{y^2 + 4y + 13} = 15 - 3x$ (*)

C.E. $15 - 3x \geq 0 \Leftrightarrow x \leq 5$ et $y^2 + 4y + 13 \geq 0$, vrai $\forall y \in \mathbb{R}$ car $\Delta = -36 < 0$

(*) $()^2 \Leftrightarrow 16(y^2 + 4y + 13) = (15 - 3x)^2$

$\Leftrightarrow 16(y^2 + 2y + 4 - 4 + 13) = (-3)^2(x - 5)^2$

$\Leftrightarrow 16(y + 2)^2 + 16 \cdot 9 = 9(x - 5)^2$

posons $X = x - 5$; $Y = y + 2$; $\Omega(5; -2)$, alors dans le repère $(\Omega, \vec{i}, \vec{j})$ on a :

(*) $\Leftrightarrow 16Y^2 + 144 = 9X^2 \Leftrightarrow 9X^2 - 16Y^2 = 144 \Leftrightarrow \frac{X^2}{16} - \frac{Y^2}{9} = 1$ ce qui est

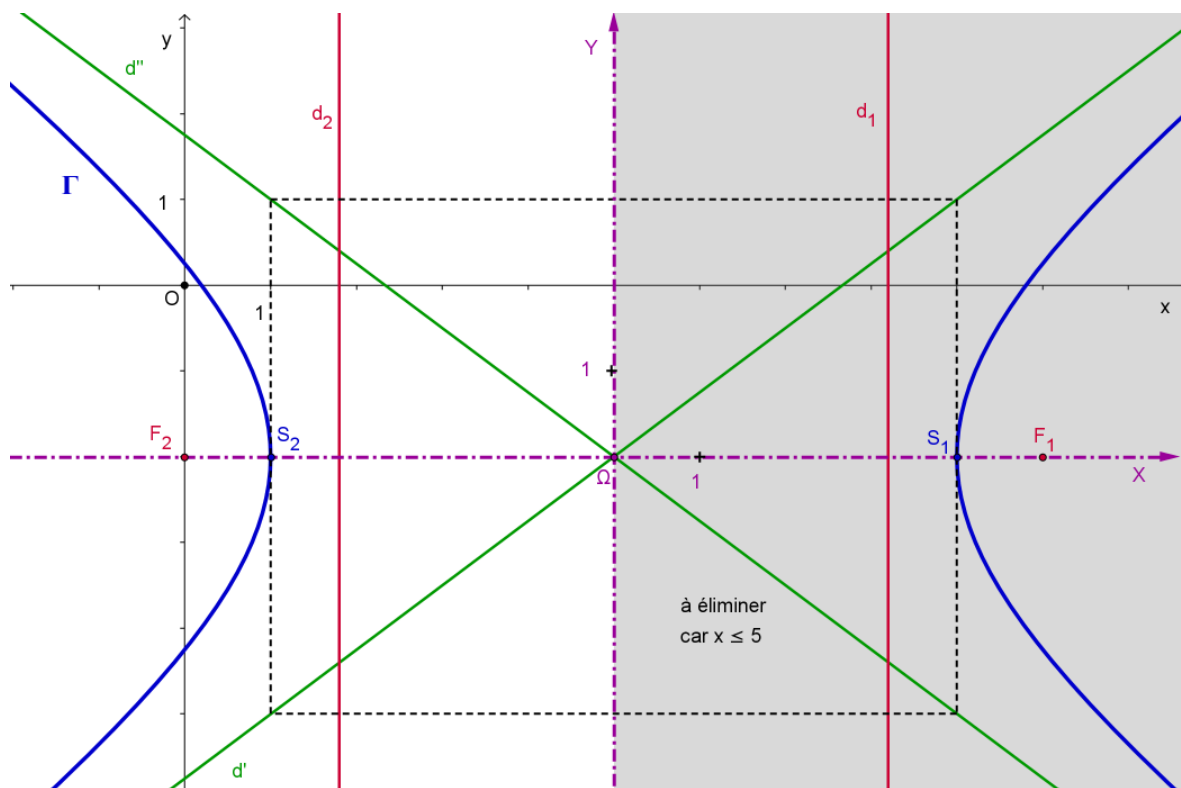
l'équation d'une hyperbole d'axe focal (ΩX) , $a^2 = 16 \Leftrightarrow a = 4$, $b^2 = 9 \Leftrightarrow b = 3$,

$c^2 = 16 + 9 = 25 \Leftrightarrow c = 5$, d'excentricité $\varepsilon = \frac{5}{4}$, de sommets $S_1(4, 0)$ et $S_2(-4, 0)$,

de foyers $F_1(5, 0)$ et $F_2(-5, 0)$, de directrices $d_1 \equiv X = \frac{16}{5}$ et $d_2 \equiv X = -\frac{16}{5}$ et

d'A.O. $d' \equiv Y = \frac{3}{4}X$ et $d'' \equiv Y = -\frac{3}{4}X$.

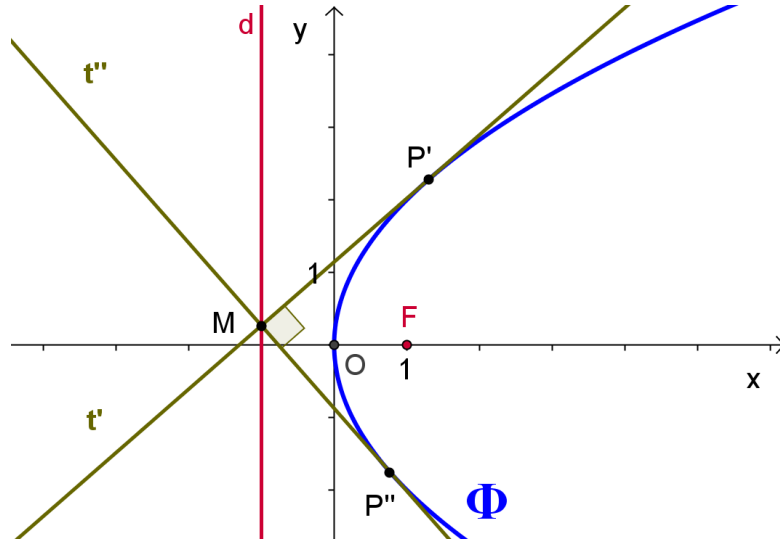
De plus d'après les C.E. $x \leq 5 \Leftrightarrow x - 5 \leq 0 \Leftrightarrow X \leq 0$, donc Γ est la demi hyperbole suivante :



- 2) a) $\Phi \equiv y^2 = 4x$, axe focal $m = (Ox)$, paramètre $2p = 4 \Leftrightarrow p = 2$, foyer $F(1;0)$ et directrice $d \equiv x = -1$.

La tangente t a pour équation $y_0 y = 2x + 2x_0 \Leftrightarrow y = \frac{2}{y_0} x + \frac{2x_0}{y_0}$ (1) puisque

$y_0 \neq 0$ ($P \neq O$) et sa pente vaut donc $\frac{2}{y_0}$.



- b) Soit $M(-1; m) \in d$ avec $m \in \mathbb{R}$, cherchons tous les points $P(x_0, y_0) \in \Phi$ tel que (PM) soit tangente à Φ :

$$y_0^2 = 4x_0 \quad (1) \quad \text{et} \quad y_0 m = -2 + 2x_0 \Leftrightarrow 2x_0 = y_0 m + 2 \Leftrightarrow 4x_0 = 2m y_0 + 4 \quad (2),$$

d'où $y_0^2 = 2m y_0 + 4 \Leftrightarrow y_0^2 - 2m y_0 - 4 = 0$, équation du second degré en y_0 ,

$\Delta = 4m^2 + 16 = 4(m^2 + 4) > 0$ donc on a deux solutions :

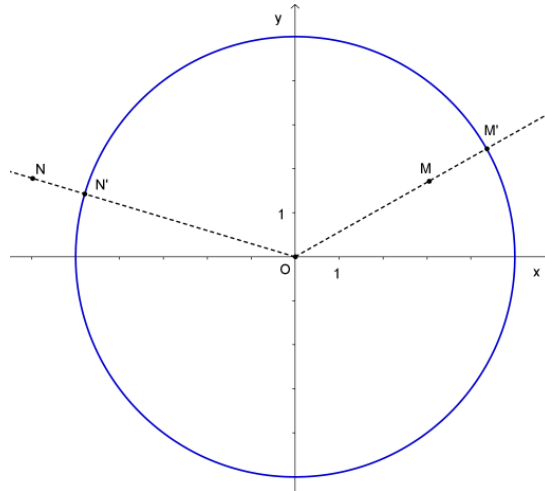
$$y_0' = \frac{2m + \sqrt{4(m^2 + 4)}}{2} = m + \sqrt{m^2 + 4} \quad \text{et} \quad y_0'' = m - \sqrt{m^2 + 4} \quad \text{ce qui montre}$$

bien qu'il existe deux tangentes t' et t'' à Φ passant par M et qui ont pour

pentés $\frac{2}{m + \sqrt{m^2 + 4}}$ et $\frac{2}{m - \sqrt{m^2 + 4}}$ respectivement d'après a).

$$\text{Or} \quad \frac{2}{m + \sqrt{m^2 + 4}} \cdot \frac{2}{m - \sqrt{m^2 + 4}} = \frac{4}{m^2 - (m^2 + 4)} = \frac{4}{-4} = -1 \quad \text{donc} \quad t' \perp t''$$

IV) 1) schéma :



Que $M(x;y)$ soit à l'intérieur ou à l'extérieur du disque, $MC=MM'$ avec $M' \in \mathcal{C} \cap [OM)$.

Or $MM' = \begin{cases} OM' - OM & \text{si } M \text{ à l'intérieur du disque} \\ OM - OM' & \text{si } M \text{ à l'extérieur du disque} \end{cases}$, d'où $MM' = |OM' - OM|$ et

comme $OM' = 5$ et $OM = \sqrt{x^2 + y^2}$, on a bien $MC = MM' = \left| 5 - \sqrt{x^2 + y^2} \right|$.

2) $MA = MC \Leftrightarrow MA^2 = MM'^2$

$$\Leftrightarrow (x-3)^2 + y^2 = \left(5 - \sqrt{x^2 + y^2}\right)^2$$

$$\Leftrightarrow x^2 - 6x + 9 + y^2 = 25 - 10\sqrt{x^2 + y^2} + x^2 + y^2$$

$$\Leftrightarrow 10\sqrt{x^2 + y^2} = 6x + 16$$

$$\Leftrightarrow 5\sqrt{x^2 + y^2} = 3x + 8 \quad \left| \left(\quad \right)^2 \quad (\text{C.E. } 3x + 8 \geq 0 \Leftrightarrow x \geq -\frac{8}{3}) \right.$$

$$\Leftrightarrow 25(x^2 + y^2) = 9x^2 + 48x + 64$$

$$\Leftrightarrow 16x^2 - 48x + 25y^2 = 64$$

$$\Leftrightarrow 16\left(x^2 - 3x + \frac{9}{4}\right) + 25y^2 = 64 + 36$$

$$\Leftrightarrow 16\left(x - \frac{3}{2}\right)^2 + 25y^2 = 100$$

posons $X = x - \frac{3}{2}$; $Y = y$; $\Omega\left(\frac{3}{2}; 0\right)$, alors dans le repère $(\Omega, \vec{i}, \vec{j})$ on a :

$16X^2 + 25Y^2 = 100 \Leftrightarrow \frac{X^2}{\frac{25}{4}} + \frac{Y^2}{4} = 1$ ce qui est l'équation de l'ellipse d'axe focal

(ΩX) avec $a = \frac{5}{2}$, $b = 2$, $4 = \frac{25}{4} - c^2 \Leftrightarrow c^2 = \frac{9}{4} \Leftrightarrow c = \frac{3}{2}$, d'excentricité $\varepsilon = \frac{3}{5}$, de sommets $S_1\left(\frac{5}{2}, 0\right)$ et $S_2\left(-\frac{5}{2}, 0\right)$, $S_3(0, 2)$ et $S_4(0, -2)$ de foyers $F\left(\frac{3}{2}, 0\right)$ et $F'\left(-\frac{3}{2}, 0\right)$, de directrices $d \equiv X = \frac{25}{6}$ et $d' \equiv X = -\frac{25}{6}$. De plus on constate que $A = F$ et $O = F'$, c'est-à-dire que O et A sont les deux foyers de l'ellipse.

Enfin $X \geq -\frac{5}{2} \Leftrightarrow x \geq -1 \left(> -\frac{8}{3} \right)$ donc les C.E. sont bien vérifiées pour toute l'ellipse.

