



BRANCHE	SECTION(S)	ÉPREUVE ÉCRITE
GÉOGRAPHIE	G	<i>Durée de l'épreuve : 120 minutes</i> <i>Date de l'épreuve : 20/05/2021</i>

**I. Étude de documents (30 points)**

Les questions portent à la fois sur les documents à analyser et sur vos connaissances.

**L'Union européenne :**

- 1) Analysez les inégalités qui existent entre les territoires de l'Union européenne. Par quels moyens l'UE lutte-t-elle contre ces inégalités ? (documents 1 et 2) 12 p.
- 2) Révélez les difficultés de l'Union européenne à établir une politique migratoire commune. (document 3) 8 p.

**L'Asie du Sud et de l'Est :**

- 3) Décrivez et expliquez l'évolution démographique chinoise depuis les années 1970. Quelles en sont les répercussions économiques et sociales pour la Chine? (document 4) 10 p.

**II. Composition (25 points)**

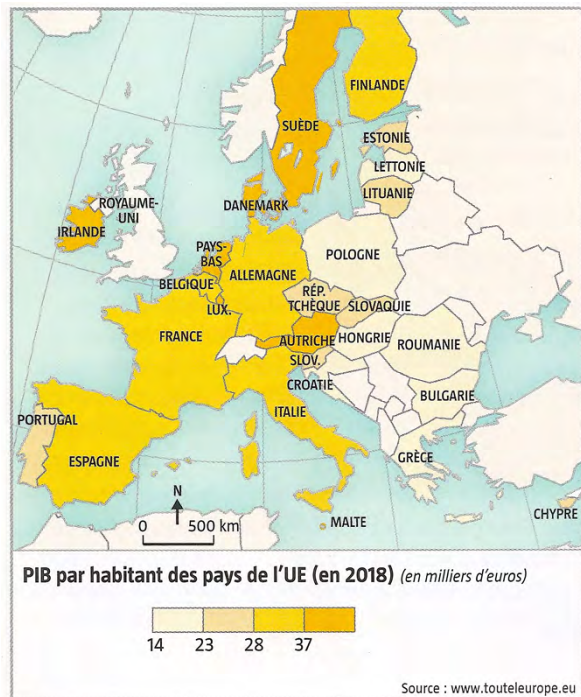
Le Brésil : forces et faiblesses d'une puissance ascendante

Aux échelles mondiale et régionale, montrez l'émergence du Brésil, mais aussi les limites de sa puissance et les problèmes auxquels il est confronté.

**III. Forme (5 points)**

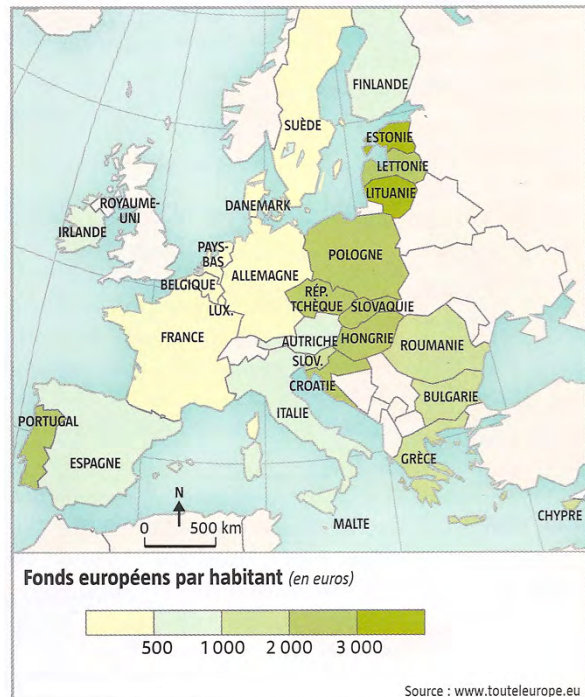
Présentation, structure et langue

**Doc.1 : PIB des États (2018)**



Source : Géographie T<sup>le</sup>, M. Hagnerelle, Magnard 2020.

**Doc.2 : Répartition des fonds européens (2018)**



**Doc.3 : L'absence d'une politique commune d'immigration dans l'Union européenne**

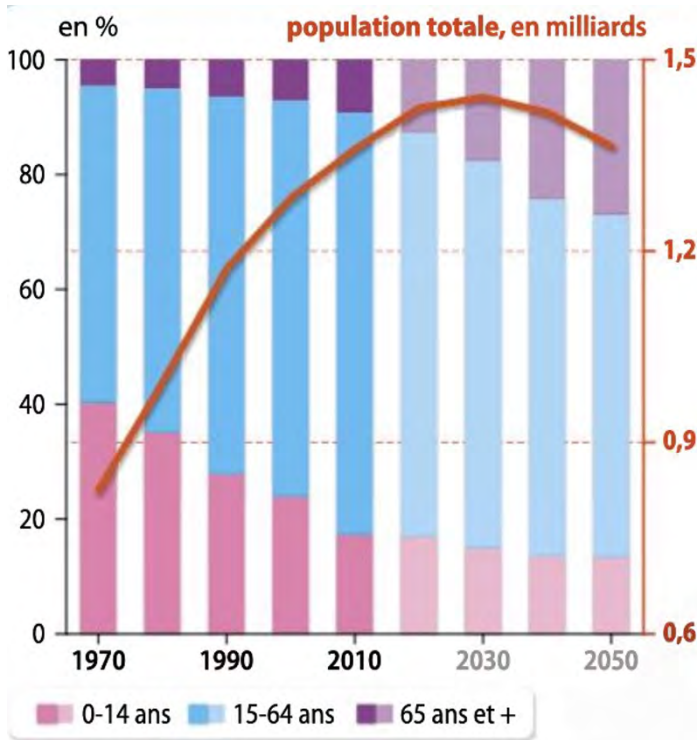
S'il est un domaine où les États membres de l'Union européenne auraient intérêt à coordonner et harmoniser leur politique, c'est bien celui de l'immigration, tant il est sûr qu'en dépit de toutes les actions répressives ou même préventives pour les empêcher, des flux se poursuivront, en provenance d'Afrique surtout, et qu'il vaudrait mieux les réguler collectivement que de les subir en désordre. Or c'est plutôt le chacun pour soi qui domine au sein de l'Union européenne.

Témoin, l'impossible réforme du règlement de Dublin qui prévoit que le pays qui doit examiner la demande de statut de réfugié présentée par un migrant est le premier État membre dans lequel il est entré dans l'Union. Cette règle fait reposer sur des pays riverains de la Méditerranée une responsabilité disproportionnée. Au fil des années, la Grèce, l'Italie et l'Espagne en ont le plus directement subi l'impact, tandis que les autres membres de l'Union leur refusent presque toute solidarité en se félicitant silencieusement que la géographie les ait placés loin des rivages méridionaux. (...)

Autrefois assez marginales, les questions de l'immigration et de l'asile occupent aujourd'hui une place centrale dans le débat politique européen. Cela se manifeste dans une partie importante de l'opinion par une demande de contrôles accrus aux frontières de l'Union. Des partis à l'audience de plus en plus forte et certains gouvernements se sont emparés de ce drapeau, marquant les divisions entre « nous » (les Européens) et « eux » (les migrants venus de pays en voie de développement). (...) Le groupe de Visegrad (Hongrie, Pologne, République tchèque, Slovaquie), depuis 2015 s'est opposé à la répartition des demandeurs d'asile entre États membres. (...)

Source : Immigration, que peut faire l'Europe ? M. Ambrosini, M. Engler et C. Gonzalez Enriquez, alternatives-économiques, 14/01/2019.

**Doc.4 : Évolution de la population chinoise et de sa structure par âge**



**Naissances enregistrées <sup>(1)</sup>**

en 2019 : 11,79 millions  
 en 2020 : 10,04 millions  
 -> une baisse de près de 15 %

**Naissances selon le sexe en % en 2020 <sup>(1)</sup>**

52,7 % de garçons  
 47,3 % de filles

**Groupe d'âge de 15-29 ans en 2020 <sup>(2)</sup>**

141,9 millions d'hommes  
 125,6 millions de femmes

Sources : <sup>(1)</sup> AFP – Premiers résultats du recensement démographique chinois de 2020, publiés par le Ministère de la Sécurité publique.

<sup>(2)</sup> PopulationPyramid.net

Source : Géographie 2<sup>e</sup>, A. Gasnier et F. Maillo-Viel, Hachette Éducation, programme 2019.