

Epreuve écrite

Examen de fin d'études secondaires 2007

Section: *G*

Branche: *géographie*

Numéro d'ordre du candidat

1. Etude d'un ensemble documentaire

34 points

La Chine, un nouveau dragon avec un modèle de développement spécifique : son succès économique et ses fragilités.

- 1.1. Commentez l'évolution des IDE en Chine et les causes de l'attractivité chinoise (document 1) 5 points
- 1.2. Commentez l'implantation d'entreprises étrangères en Chine. (document 3) 5 points
- 1.3. Commentez l'évolution des salaires dans quatre villes chinoises (localisation indiquée dans le document 3) et les dangers liés aux disparités de revenus. (documents 2 et 4) 8 points
- 1.4. Quel est le bilan provisoire de l'ouverture économique de la Chine ? (document 5) 4 points
- 1.5. Rédigez une réponse organisée à la problématique du sujet en vous basant sur vos réponses aux questions ainsi que sur vos connaissances . 12 points

2. Composition

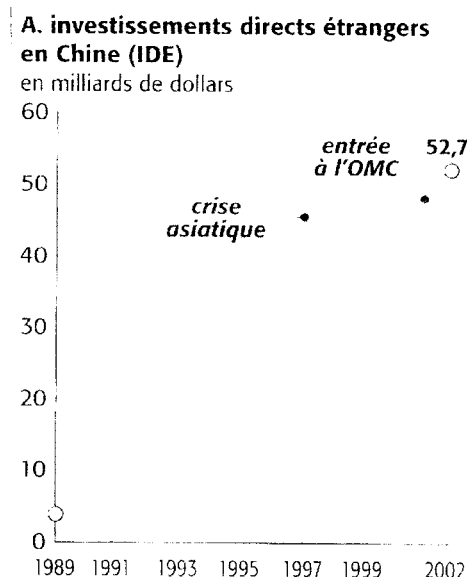
20 points

Les caractéristiques de la population des Etats-Unis : dynamisme démographique, multi-ethnicité et problèmes sociaux.

3. Forme : structure, logique, vocabulaire géographique, fautes

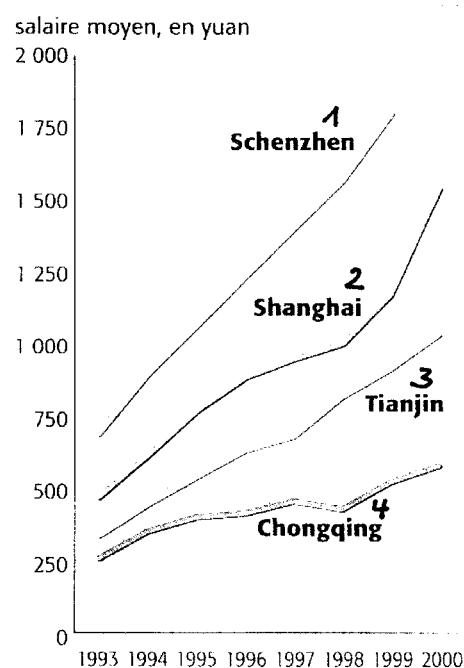
6 points

Document 1 :



Source : Terminales Hachette 2004

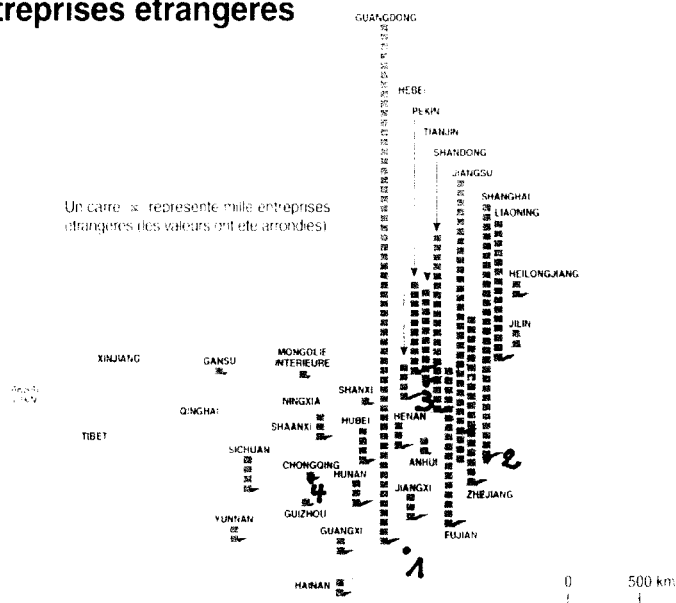
Document 2 : Evolution des salaires en Chine entre 1993 et 2000



Source : Terminales Hachette 2004

Document 3 :

L'implantation des entreprises étrangères



Source : Manière de voir, février-mars 2006

Document 4 :

Les risques liés à l'inégalité de développement

Les disparités de revenus sont devenues flagrantes, parfois entre les villes-ZES et le reste des provinces du Sud, ce qui nourrit encore aujourd'hui un fort ressentiment dans les régions intérieures à l'égard des ZES et du gouvernement central. Ce ressentiment s'est traduit par des guerres commerciales. [...] Par exemple, le marché automobile de Shanghai reste aujourd'hui fermé aux véhicules produits hors du pôle de Shanghai, comme l'usine Citroën de Wuhan en a fait l'amère expérience. Cette disparité de richesses a, par ailleurs, entraîné des flux massifs d'émigration des provinces de l'intérieur vers les régions côtières – on estime à près de 60 millions la population des travailleurs journaliers, errant de ville en ville – avec tous les risques socio-économiques qu'entraîne une migration incontrôlée, sans mentionner l'actuel risque politique (mouvements séparatistes, actions terroristes, développement de la criminalité organisée, etc.).

J.-J. Boillot et N. Michelon,
Une nouvelle géographie économique de l'Asie,
La Documentation française, 2001.

Source : Terminales , Hachette 2004

Document 5 :

Chine : un colosse émerge

Le fait d'être chinois au lendemain de la mort du « Grand Timonier » Mao équivalait au sort d'un Africain de condition très moyenne ; et aujourd'hui nombre de citoyens de Chine vivent aussi bien ou mieux que des cadres supérieurs occidentaux, même si l'écrasante majorité du pays se trouve à un niveau de développement compris entre la paysannerie de l'Europe anciennement soviétique et le plus pauvre des « tiers mondes ».

Surtout, la Chine est devenue pour la planète son centre de manufacture le plus important : si « l'usine chinoise » fermait du jour au lendemain en raison de troubles internes, la plupart des grands distributeurs de biens de consommation du monde riche auraient du mal à approvisionner leurs rayonnages.

Francis Deron, *Dossiers et documents*,
Le Monde, octobre 2003.

Source : Terminales , Hachette 2004